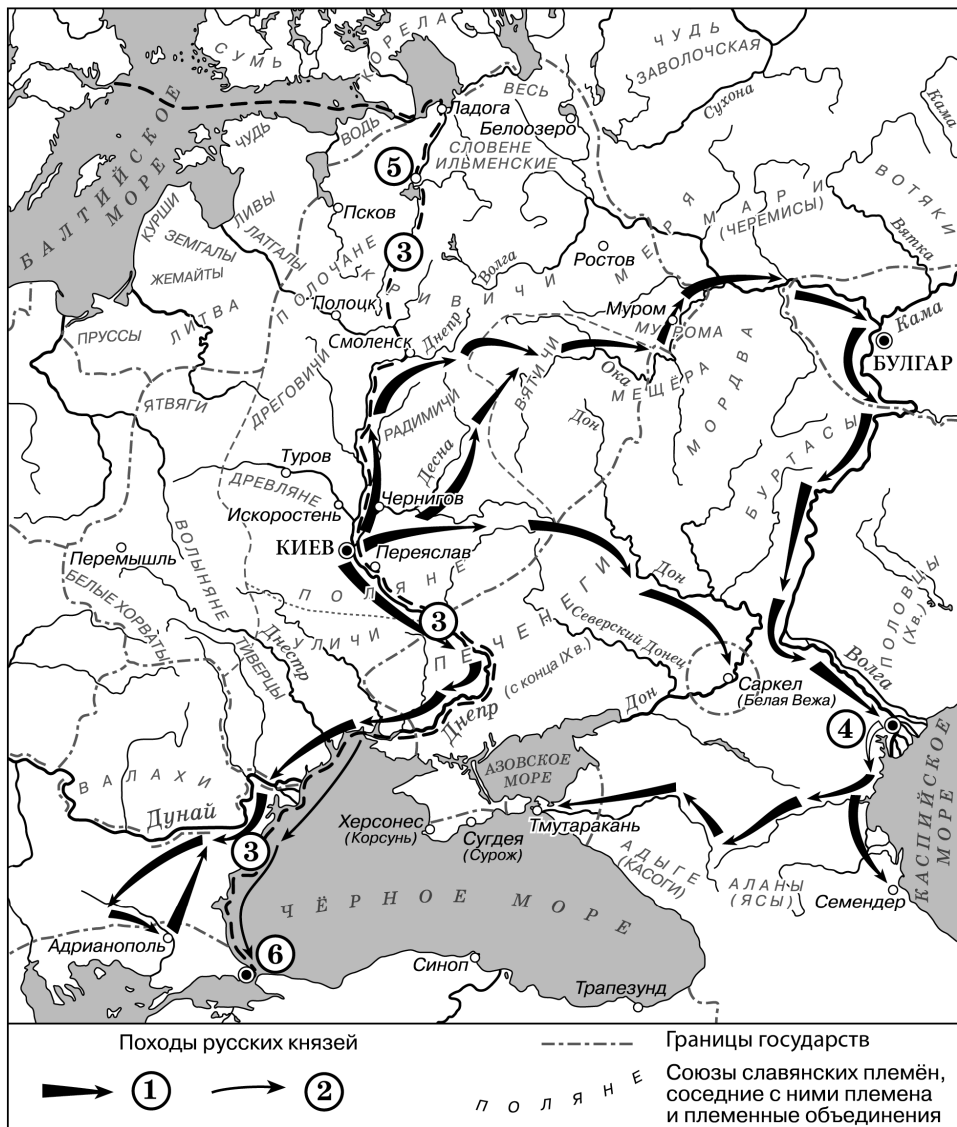


Задание 14. Работа с исторической картой (схемой): все задания

Остальные задачи

1. Задание

Рассмотрите схему и выполните задание.



Укажите имя князя, походы которого обозначены в легенде схемы цифрой «1».

2. Задание

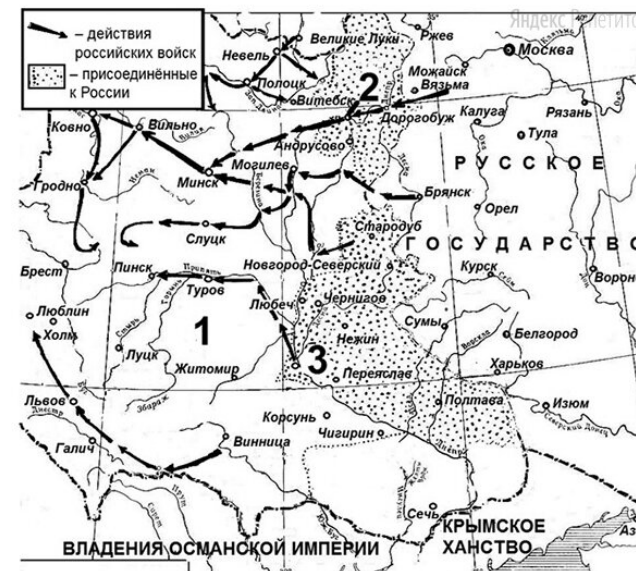
Рассмотрите схему и выполните задание.



Напишите название города, обозначенного на схеме цифрой «2».

3. Задание

Рассмотрите схему и выполните задание.



Напишите название города, обозначенного на схеме цифрой «2».

4. Задание

Рассмотрите схему и выполните задание.



Назовите московского князя, возглавившего поход, обозначенный на схеме белыми стрелками.
 Ответ запишите без пробелов.

5. Задание

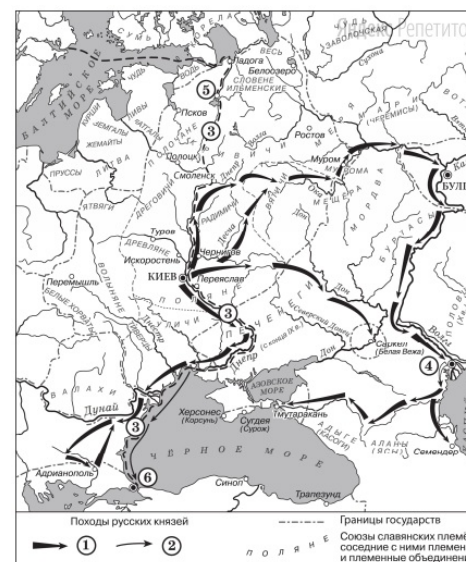
Рассмотрите схему и выполните задание.



Назовите российского государя, в период правления которого начался поход, обозначенный на схеме.
 Ответ запишите без пробелов.

6. Задание

Рассмотрите схему и выполните задание.



Укажите имя князя, походы которого обозначены в легенде схемы цифрой «1».